

2					1										
問五	問四			問三	問二	問一	問四			問三	問二	問一			
				(一)			(五)	(三)	(一)			⑦	⑤	③	①
											ア ン イ	傾 斜	傾 斜	費 (やす)	
				(二)				(四)	(二)		⑧	⑥	④	②	
										問三					
											レ キ ホ ウ (んで)	喝 采 ト	喝 采	繕 (う)	

1	1		2		
	3		4		
	5		6		
	7		8	cm ²	
2	1	(1)	歳	(2)	歳
	2	(1)	通り	(2)	
	3	(1)		(2)	
	4	(1)	cm ³	(2)	(円錐P) : (円柱Q) = : :
3		(1)			
	1	(2)			

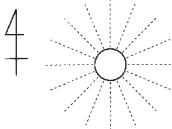
3	2	(1)	m			
		(2)	(ア)	<div style="text-align: center;"> <p>[図]</p> <p>(分)</p> </div>		
		(イ)	m			
4	1	cm				
	2	(1)	[証明]			
		(2)	cm^2	(3)	cm	

1	1	(1)		(2)		2		
		(1)						
			①					
		3		②				
		(2)		ことができます。				
2	1			2		3	→	→
	4							
		(1)						
	5		(2)					

3	1	(1)		(2)			
	2			3		4	→ →
	5						
4	1	(1)		平野	(2)		(3)
	2						
	3	(1)					
5	1	(1)		政策	(2)		
	2			3			4
	5						

1	問題 1	1番		2番				
	問題 2	1番		2番				
	問題 3	1番		2番		3番		
	問題 4							
2	1	(1)		(2)		(3)		
	2	(1)						
		(2)						
	3	(1)	→	→	→	→		
		(2)	→	→	→	→		
	3	1						
2							
							
							
3		→	→	→	→			
4								

4	1				
	2	空気中のマイクロプラスチックが			
	3	(1)			
		(2)			
4		5	Ⓐ	Ⓑ	
6	(1)		(2)		
5	1				
	2				

1	1	(1)	(2)	①	②	
	2	(1)				
		(2)				
		(3)				
	3	(1)	(2)	(3)	m/s	
4	(1)	[図]		(2)	(3)	
2	1	2	3			
	4	①	②	③	5	
3	1	2				
	3	(1)				
		(2)				
	4					

4	1		2				
	3		4				
	5						
5	1				cm/s		
	2		3		4		
	5						

2					1								
問五		問四	問三	問二	問一	問五	問四	問三	問二	問一			
(二)	(一)									⑦	⑤	③	①
										ツウカイ	ハナ	寸暇	研
										(ニ)			(キ)
										⑧	⑥	④	②
										エイセイ	タヨ	静寂	競
										(リ)			(イ)

5			4						3													
問三	問二		問一	問六	問五			問四	問三	問二		問一	問六	問五			問四	問三		問二	問一	
	(二)	(一)								B	A								(二)	(一)		

1	1		2		
	3		4		
	5		6	$y =$	
	7		8		
	9		度		
2	1	(1)		(2)	
	2	(1)		(2)	
	3	(1)		(2)	羽
	4	(1)		(2)	cm^3

3	1	[証明]					
	2	(1)	EH : HG =	:	(2)	cm^2	
4	1	分			秒後		
	2	(1)	L			(2)	分
5	1	枚					
	2						
	3	cm					

1	1	(1)		(2)				
	2	(1)		(2)				
	3	(1)		(2)				
	4	①		②		③		
2	1	(1)		(2)				
		(3)		(4)				
	2	(1)						
		(2)						
	3	(1)	→	→	→	→		
		(2)	→	→	→	→		
3	1							
	2							
	3	(1)						
		(2)						
4								

4 1	1					
	2					
	3	月	日			
	4					
	5	Ⓐ		Ⓑ		Ⓒ
	6	→ → →				
4 2	1					
	2					

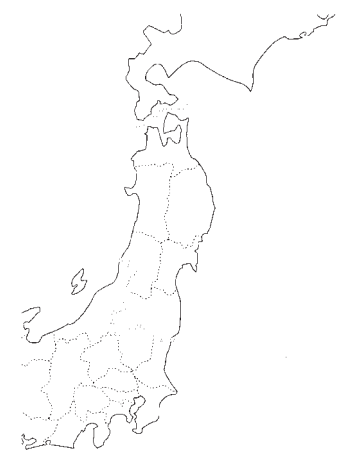
2						1								
問六	問五	問四	問三	問二		問一	問二			問一				
				B	A		(五)	(四)	(一)	⑦	⑤	③	①	
											ギ ア ン	掲 載	健	
										(一)	(い)		(やかな)	
										(二)	⑧	⑥	④	②
										(三)				
											シ ヨ ク ジ ユ	勇 敢	募	
													(る)	

5										4			3																																																																																																																																		
選んだ記号										問三	問二	問一	問六	問五		問四	問三		問二	問一																																																																																																																											
																		(二)	(一)																																																																																																																												
200										160																																																																																																																																					

1	1		2	
	3		4	
	5		6	
	7	㊸	㊹	cm ²
2	1	(1)	(2)	
	2	(1)	(2)	およそ 人
	3	(1)	(2)	g 個
	4	(1)	(2)	cm ³ cm
3	1	(1)	(2)	㊸ ㊹
	2	(3)	㊺	
	3	(1)	分 秒	(2) 時 分

4	1	[証明]			
	2	(1)	cm	(2)	cm

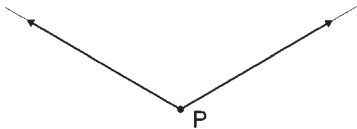
1	1	(1)	(2)	(3)					
		(4)							
	2	(1)							
		(2)							
2	1		2		3		4		
	5								
	6								
3	1		2		3		4		
	(1)								
	5	(2)							

4	1	(1)		(2)			
	2						
	3	(1)	<input type="checkbox"/> 				
	4	(2)					
5	1			2			
	3			4		5	
	6						

1	問題 1	1番		2番				
	問題 2	1番		2番				
	問題 3	1番		2番		3番		
	問題 4							
2	1	(1)		(2)		(3)		
	2	(1)						
		(2)						
	3	(1)	→	→	→	→		
		(2)	→	→	→	→		
3	1							
	2							
	3							
	4							

4	1					
	2					
	3					
	4	(1)				
	4	(2)				
5	(A)		(B)		(C)	
5	1					
	2					

1	1	(1)			(2)		(3)	
	2	(1)		(2)			(3)	
	3	(1)		(2)	①	②	hPa	(3)
	4	(1)			(2)		(3)	
2	1				2		3	
	4	X		Y	Z			
	5							
3	1		2					
	3		4	①	②		③	
	5	_____の質量の方が_____g大きい。						

4	1					
	2			3		
	(1)	_____グループ				
	4	(2)	調査地_____			
		理由				
5	1	①	N	②	cm	③
	2					
	3	(1)	[図] 	(2)	倍	

2						1							
問六	問五	問四	問三	問二	問一	問七	問六	問五	問四	問三	問二		問一
			A		(-)						(二)	(一)	
			A		(-)							(二)	(一)
			B		(二)								